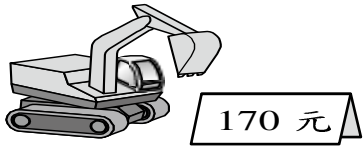


一、畫畫看看，做做看看：(每題3分，共9分)

可以怎麼付錢？

1.



(1) 用 $\square 100$ 、 $\textcircled{10}$ 付：


(2) 用 $\square 100$ 、 $\textcircled{50}$ 和 $\textcircled{10}$ 付：

2. 畫出分針來。

2. 7 點 29 分。

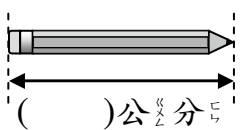


3. 用 $\square 100$ 、 $\textcircled{10}$ 和 $\textcircled{1}$ 的圖，把要付的錢畫下來。



二、量量看看，再回答問題：(每個答案2分，共6分)

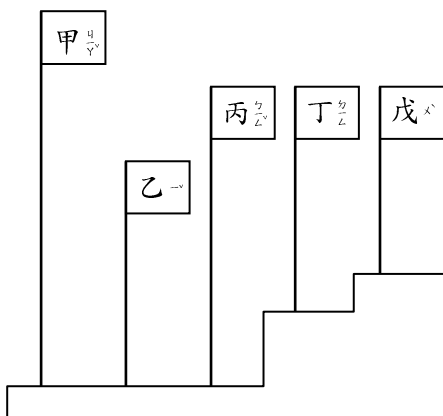
1. 下面的物品是幾公分？



2. 用尺來量量看看。

(1) 甲旗子的高是幾公分？()公分

(2) 哪兩枝旗子一樣高？()



三、計算題：(每題4分，共32分)

1. $25 - 14 = ()$ 驗算：

2. $95 + 9 = ()$ 驗算：

3. $8 + 99 = ()$ 驗算：

4. $35 + 56 = ()$ 驗算：

5. $37 + 55 = ()$

6. $90 - 9 = ()$

7. $70 - 39 = ()$

8. $() - 36 = 10$

四、應用題：(每題5分，共25分)

1. 一朵紅玫瑰 36 元，一朵藍玫瑰 58 元，藍玫瑰比紅玫瑰貴幾元？

答：()元

2. 餅乾盒裡有 49 片餅乾，吃掉 24 片後，還剩下幾片？

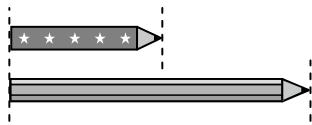
答：()片

3. 慶生會時，老師準備了 28 塊蛋糕，有 35 個小朋友參加，一人分 1 塊，蛋糕不夠幾塊？

答：()塊

4. 先量一量，再算算看。

這兩枝筆相差幾公分？



答：()公分

5. 老師準備了 50 枝鉛筆，送給班上同學一人 1 枝後，還剩下 17 枝，班上共有幾位學生？

用有()的算式記問題，再算算看。

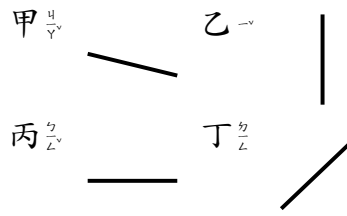
五、選擇題：(每題 3 分，共 18 分)

- () 1. $170 \rightarrow 180 \rightarrow 190 \rightarrow \square$ ，按照順序排， \square 中應該填多少？
 ① 191 ② 200 ③ 210 ④ 110
- () 2. 下列何者有平行現象？
- () 3. 哥哥買一塊 55 元的蛋糕和一個麵包，共付了 82 元，一個麵包要多多少元？
 ① 17 元 ② 19 元 ③ 28 元 ④ 27 元
- () 4. 圖中的時鐘，數字鐘上會顯示出什麼數字？



- ① 4:01 ② 1:04 ③ 1:20 ④ 4:05

() 5. 下面哪一條是水平線？



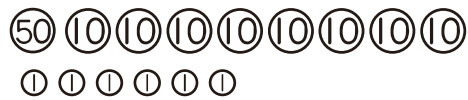
- ① 甲 ② 乙 ③ 丙 ④ 丁

() 6. 分針指到「6」是指多少分鐘？

- ① 16 分鐘 ② 30 分鐘 ③ 6 分鐘
 ④ 60 分鐘

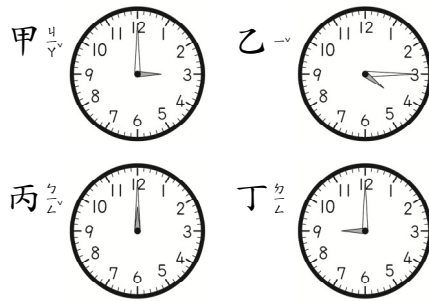
六、看圖回答問題：(每個答案 2 分，共 10 分)

1. 圖中一共有多少元？



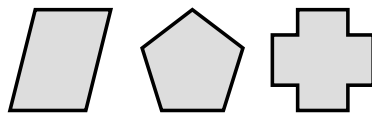
()元

2. 哪些時鐘的短針是水平線？()



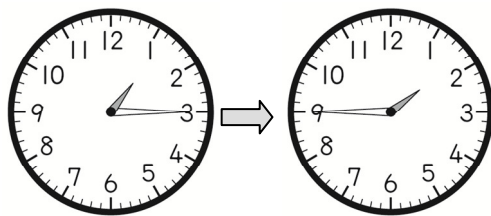
3. 下列何者有垂直現象？

() (用代號回答)



甲 乙 丙

4.



經過()分鐘。

5. 下面哪一個是水平靜止時的樣子？

() (用代號回答)



甲 乙 丙